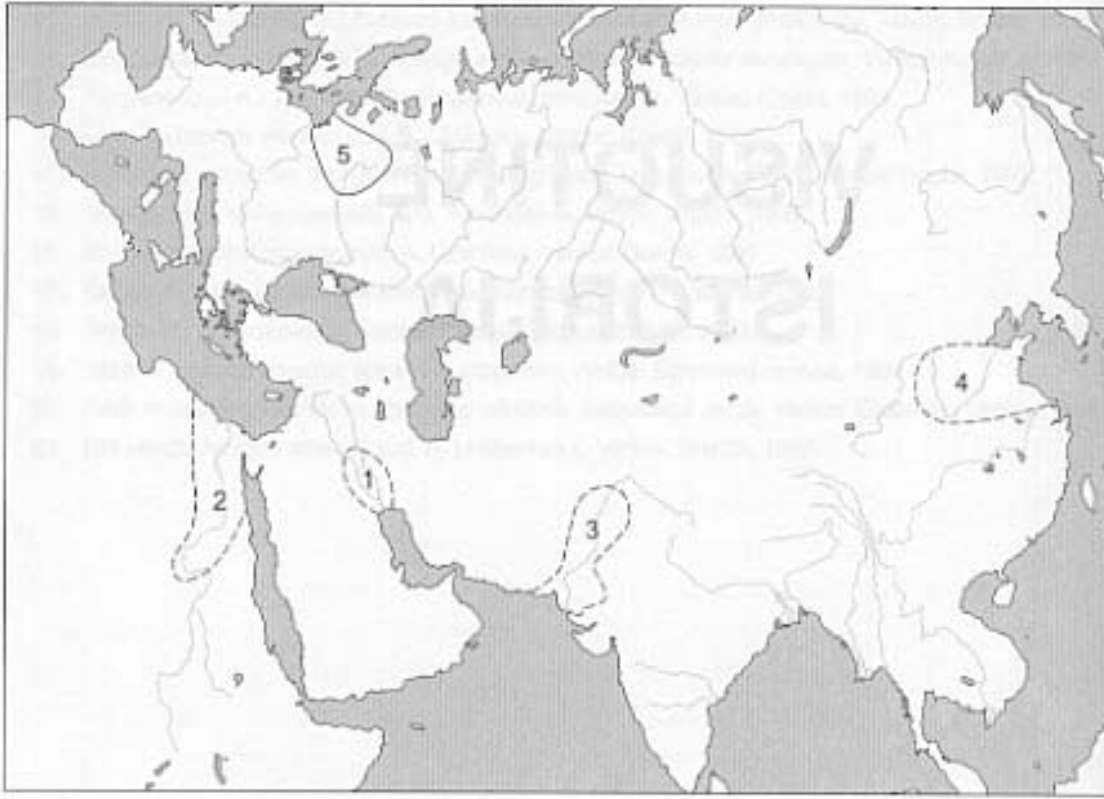


I. Atpažink ir paaiškink žemėlapius.

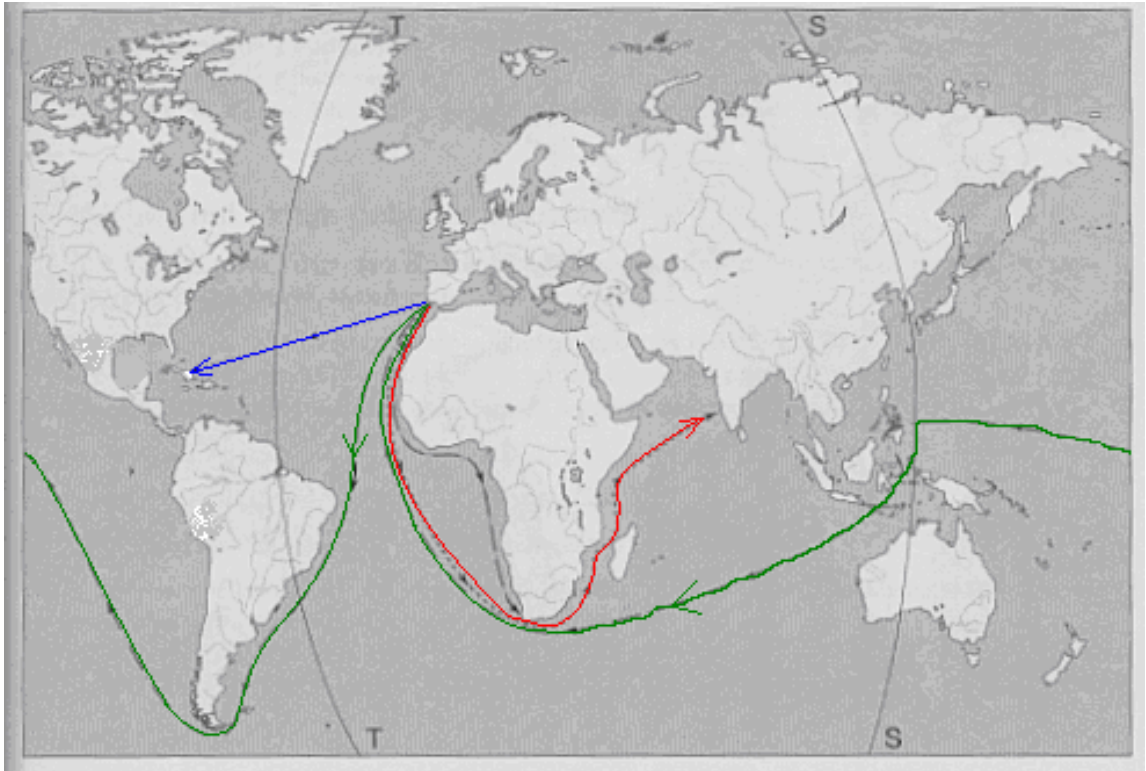


1. Kas sieja žemėlapyje pažymėtas 1, 2, 3, 4 teritorijas?

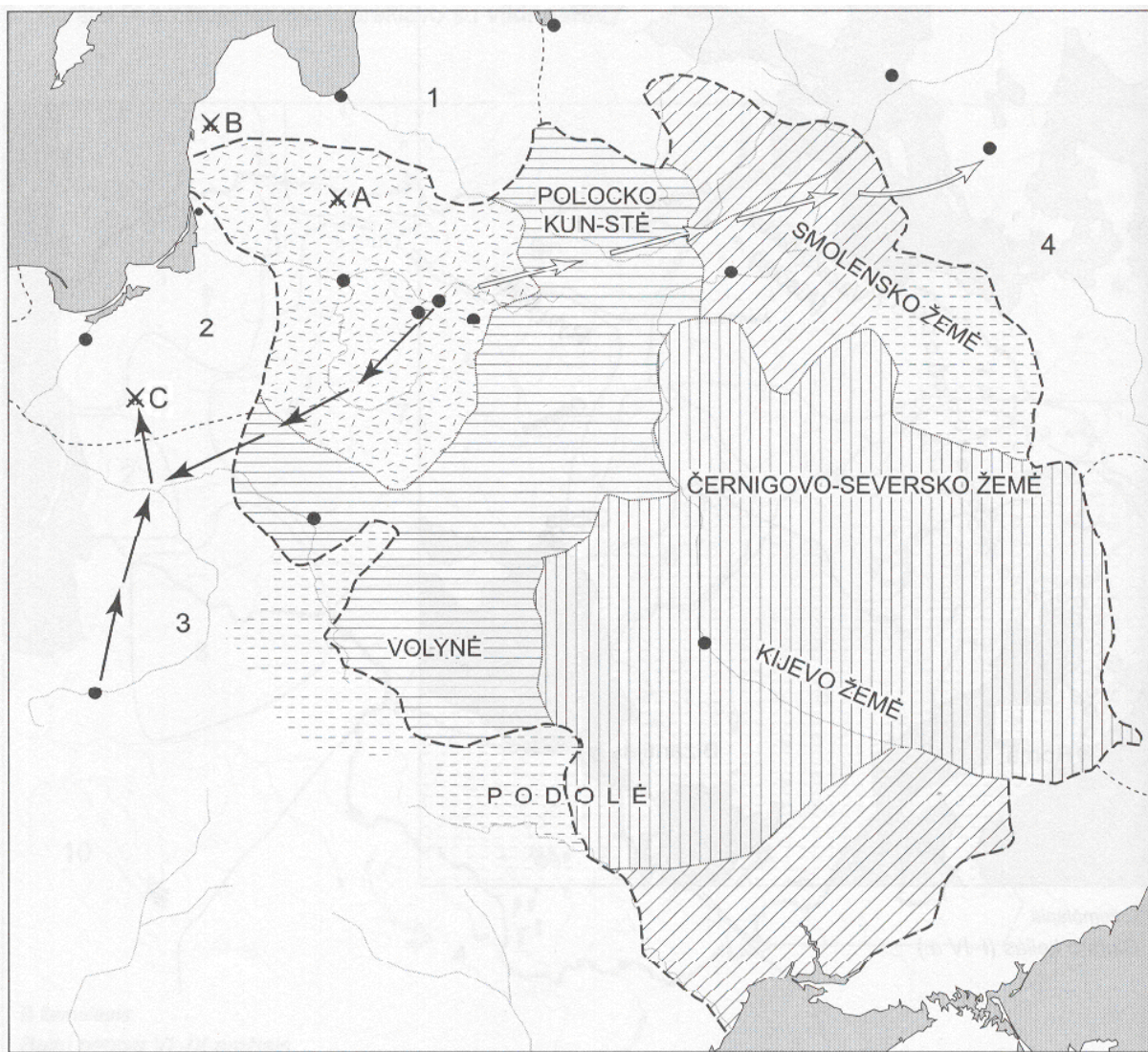
2. Kaip jos vadinamos?

3. Prie kokių upių šie dariniai susikūrė?

4. Kokios gentys gyveno teritorijoje, pažymėtoje skaičiumi 5?



1. Kaip vadinamas istorijos laikotarpis, kuris atspindi žemėlapyje?
2. Koks keliautojas ir kokį atradimą padarė, kurio kelionė pažymėta sutartiniu ženklų → ?
3. Kokį atradimą padarė keliautojas, kurio kelionė pažymėta sutartiniu ženklų → ? Koks tai keliautojas?
4. Kokia ekspedicija pažymėta sutartiniu ženklų → ?



1. Kokia valstybė pavaizduota žemėlapyje?

2. Kurių amžių įvykiai atsispindi žemėlapyje?

3. Kokia teritorija pažymėta tokiu  sutartiniu ženklų?


4. Kokią teritoriją žymi toks  sutartinis ženklas?

5. Kokia teritorija pažymėta šiuo  sutartiniu ženklų?

6. Kokia teritorija pažymėta tokiu  sutartiniu ženklų?

7. Kokios valstybės pažymėtos skaičiais 1, 2, 3, 4?

8. Kokie mūšiai žemėlapyje pažymėti raidėmis A, B, C? Kuriais metais jie vyko?

9. Koks įvykis žymimas žemėlapyje rodyklėmis  ?

II. Pažymėk, pabrauk, įrašyk, nurodyk, sujunk.

1. Išdėstyk įvykius tinkama seka. Įrašyk skaičius nuo 1 iki 4.

- Vilniuje, prie A. Mickevičiaus paminklo, įvyksta mitingas Ribentropo – Molotovo paktui pasmerkti.
- Paskelbiamas nepriklausomos Lietuvos valstybės atkūrimo aktas.
- Įvyksta Baltijos kelias.
- Įkuriamas Lietuvos persitvarkymo sąjūdis.

2. Teisingus teiginius pažymėkite pliuso ženklu (+), neteisingus – (-).

1547 metais buvo išleistas M. Mažvydo „Katekizmas“.
M. Daukšos knygoje iškeliami gimtosios lietuvių kalbos svarba.
K. Donelaitis parašė poemą „Metai“.
M. Mažvydo knygoje kalbama apie Lietuvos didžiuosius kunigaikščius.
Pirmoji lietuviška knyga išleista Rytų Prūsijoje.
Steponas Batoras parašė knygą vaikams.

3. Pirmoji istoriniuose šaltiniuose paminėta Lietuvos vietovė (pabraukite):

- a) Klaipėda
- b) Šiauliai
- c) Apuolė
- d) Trakai

4. Lietuvos vardas pirmą kartą paminėtas (pabraukite):

- a) Livonijos eiliuotoje kronikoje
- b) Kvedlinburgo analuose
- c) Ipatijaus metraštyje
- d) Duisburgo kronikoje

5. Pasak senovės graikų legendos, išminties ir karo deivė padovanojo žmonėms alyvmedį. Nusprendę, kad deivės dovana neįkainojama, savo miestą pavadino jos vardu. Koks tai miestas?

6. Kauno zoologijos muziejuje saugomi mamuto, gyvenusio prieš 13 tūkstančių metų, griaučiai, rasti:

- a) Lietuvos teritorijoje
- b) Lenkijos teritorijoje
- c) Rusijos teritorijoje

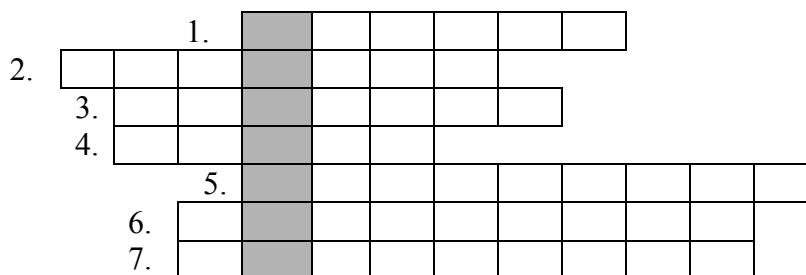
7. Nurodykite autorių:

- a) Lietuvos himno autorius yra.....
- b) Europos sąjungos himno autorius yra

8. Išspręskite kryžiažodį:

1. Aukščiausia įstatymų leidžiamoji valdžia Lietuvoje.
2. Prievartinis gyventojų iškeldinimas iš Lietuvos 20 a.
3. XX a. 2-o dešimtmečio pabaigoje atkurtos valstybės pavadinimas.
4. Lietuvos herbas.
5. Svetimo krašto užėmimas ginkluota jėga.
6. Draudžiamosios lietuviškos spaudos gabentojas ir platintojas.
7. Žmogus, savo noru ginantis Tėvynę.

Teisingai įrašę paryškintuose langeliuose iš viršaus į apačią perskaitysite pirmojo Lietuvos prezidento pavardę.



Kiekvienas teisingas atsakymas - 1 taškas. Iš viso 7 taškai.

9. Civilizacijos požymiai:

- a) Žmonės gyvena miestuose
- b) Specializuoja darbą
- c) Visuomenė jau organizuota: žmonės paklūsta valdovams
- d) Spausdinamos knygos
- e) Raštas
- f) Teatrai

10. Egiptiečių manymu, amžinajam gyvenimui reikalingos trys sąlygos:

- a) Išsaugoti kūną
- b) Dorai gyventi esant gyvam
- c) Turėti karstą, kuriame mirusiojo niekas netrukdytų
- d) Pasirūpinti mirusiojo dvasios maitinimu

11. Kas sudarė egiptiečių visuomenę:

- a) Amatininkai, didikai, faraonas, valstiečiai, vergai, žyniai
- b) Amatininkai, faraonas, kunigaikščiai, vergai
- c) Faraonas, karalius, miestiečiai, valstiečiai, žyniai

12. Kas pirmieji pradėjo vartoti ženklą, reiškiantį nulį:

- a) Indai
- b) Arabai
- c) Kinai

13. Šachmatų gimtinė yra:

- a) Indija
- b) Kinija

14. Pabraukite eilutę, kurioje teisingai nurodytos pirmosios upių civilizacijos:

- a) Egiptas, Graikija, Indija, Kinija
- b) Egiptas, Mesopotamija, Indija, Kinija
- c) Graikija, Indija, Mesopotamija, Kinija

15. Reikšmingiausias finikiečių išradimas:

- a) Laivų statyba jūrų prekybai
- b) Abėcėlės sukūrimas
- c) Kolonijų steigimas

16. Valstybė, kurioje taikytas politinis valdymo principas „skaldyk ir valdyk“:

- a) Graikija
- b) Roma
- c) Kartagina

17. Vergai Romos imperijoje buvo vadinami:

- a) Gyvieji užmuštieji
- b) Kalbantys darbo įrankiai
- c) Amžini vergai

18. Romos valstybė klestėjimo viršūnę pasiekė valdant:

- a) Julijui Cezariui
- b) Oktavianui Augustui
- c) Trajanui

19. Trys vyraujančios religijos pasaulyje yra (įrašyk jas):

- a)
- b)
- c)

20. Rodyklėmis sujunkite žodžius ir teisingus jų apibūdinimus.

Apaštalai	vieta, kur laidojami krikščionys
Golgota	romėnų vietininkas Judėjoje
Katakombos	imperatorius, paskelbęs krikščionybę valstybine religija
Krikščionys	Jėzaus Kristaus mokiniai
Naujasis Testamentas	kalnas, ant kurio buvo nukryžiuotas Jėzus Kristus
Pilotas	Kristaus mokymą išpažinę žmonės
Teodosijus	Biblijos dalis

III. Atpažink, kas pavaizduota paveikslėliuose ar nuotraukose



1.



2.




3.



4.



5.




6.



7.



8.



9.



10.



11.



12.



13.

Išnagrinėkite rašytinius šaltinius, atsakykite į klausimus.

A Kažkada gyvenusi tauta, kurios pastatai, statulos, tapyba stulbino visą pasaulį. Ji pastatė piramides ir Karnavo šventyklas, išmanė astronomiją ir tiksliai sprendė geometrijos uždavinius. <.....> Ši tauta nukariavo didžiulę teritoriją. **Vienu metu jos teritorija tęsėsi nuo Sudano iki Eufrato**, ji sukūrė detalią rašto sistemą ir įgijo išminčių tautos reputaciją. <.....> Ir kartu tie patys žmonės garbino kates ir gyvates.

B Ten Dievas, kalbėdamas Izraeliui nakties regėjime, jį pašaukė: „Jokūbai, Jokūbai!“. Jis atsiliepė: „Aš čia!“ – „Aš esu Dievas, - tarė jam, - Dievas tavo tėvo! Nebijok keltis į Egiptą, nes **ten padarysiu tavę didele tauta**. Aš pats keliausiu su tavimi į Egiptą ir aš pats tave **atgal parvesiu**. <.....>

1. Kokiai senovės civilizacijai nagrinėti skirtas A šaltinis? Savo atsakymą paaiškinkite.

2. Kam valdant A šaltinyje aprašytos valstybės teritorija tęsėsi nuo Sudano iki Eufrato?

3. Kaip buvo vadinama A šaltinyje minima detalioji rašto sistema?

4. Kokiai senovės civilizacijai nagrinėti skirtas B šaltinis? Savo atsakymą paaiškinkite.

5. Apie kokį šios tautos istorinį įvykį B šaltinyje rašoma paryškintais žodžiais? Kada tai įvyko, kas vadovavo?